






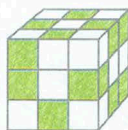



Ordne jedem Würfel das passende Netz zu. Verbinde.






1 Lege eine Form aus vier Zahlenwaben, die die Summe 76 haben. Zeichne deine Lösung.



Lege nun die eingezeichnete Form so aus, dass eine möglichst kleine Summe entsteht. Beachte die Farben.

Die kleinste Summe ist .

2 Lege eine Form aus vier Zahlenwaben, die die Summe 115 haben. Zeichne deine Lösung.



Lege nun die eingezeichnete Form so aus, dass eine möglichst große Summe entsteht. Beachte die Farben.

Die größte Summe ist .



