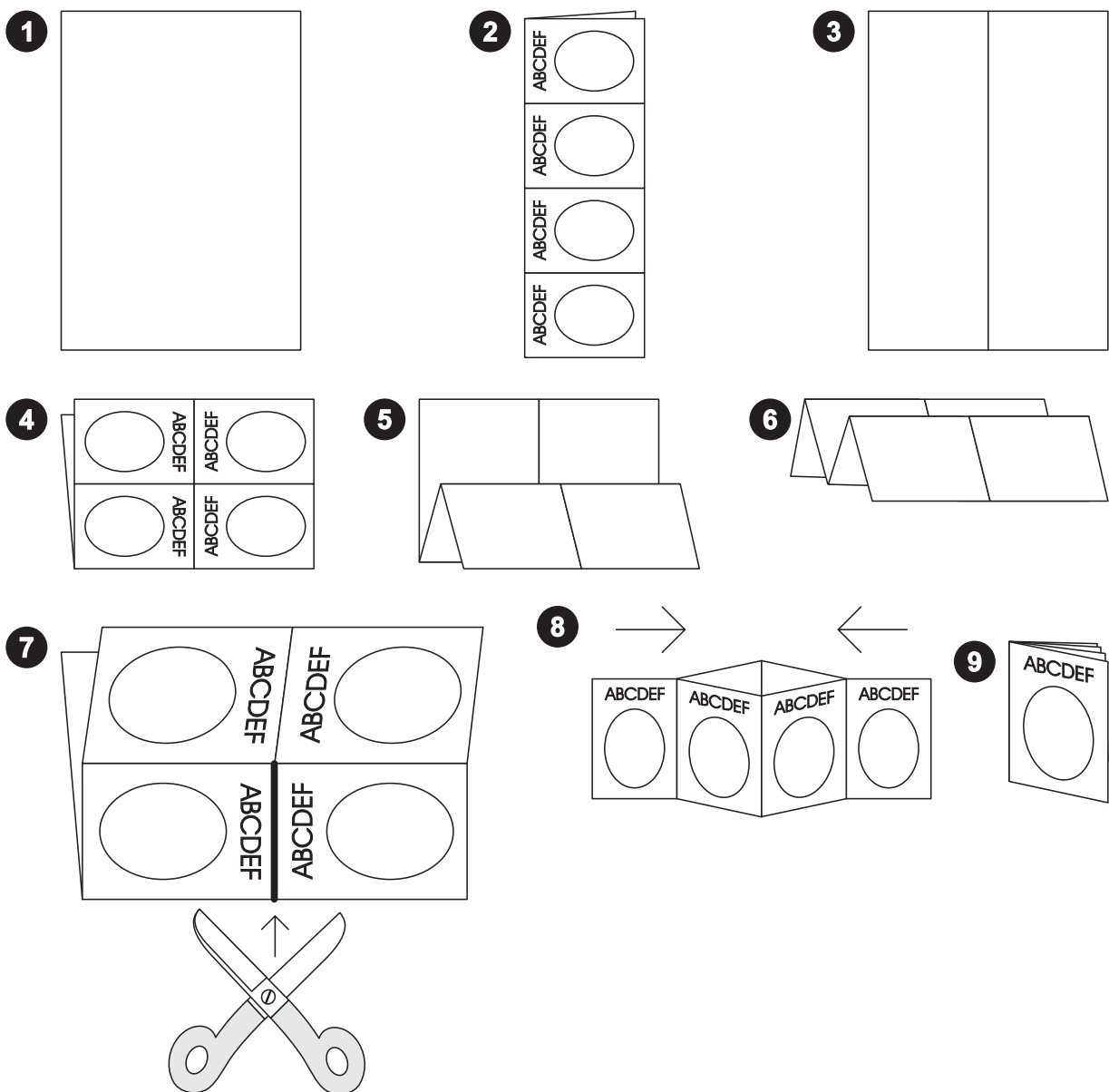


# Partnerhefte kleines 1:1

## Faltplan für die Aufgabenbüchlein


Die bedruckte Seite des Blattes wird auf den Tisch gelegt (1). Das Blatt wird einmal längs gefaltet (2), dann wieder aufgeklappt (3) und einmal quer gefaltet (4). Anschließend wird das Blatt zweimal an der Rückseite quer gefaltet (5 und 6). Danach wird mit einer Schere ein Schnitt von genau einer Feldbreite ausgeführt (7). Schließlich wird das Blatt an dieser Schnittkante auseinander gebogen, zusammengeschoben (8) und die einzelnen Seiten zu einem Aufgabenbüchlein umgeklappt (9).



# A

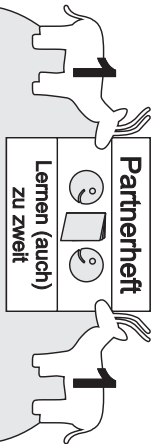
1 Heft  
Einmal eins der 2 Partner  
unz Aufgaben

Les dein Partner / deiner Partnerin drei Seiten vor und überprüfe, ob seine / ihre Antworten richtig sind. Drehe anschließend das Heft um und lass dir dann von deinem Partner / deiner Partnerin die anderen elf Aufgaben vorlesen.



<b>A</b>	4 geteilt durch 2 ist wie viel?	2
<b>B</b>	16 geteilt durch 2 ist wie viel?	8
<b>C</b>	8 geteilt durch 2 ist wie viel?	4
<b>D</b>	20 geteilt durch 2 ist wie viel?	10

1a



Teilaufgaben zum Einmaleins der 2 Heft 1

Les deinem Partner / deiner Partnerin die elf Aufgaben auf den folgenden drei Seiten vor und überprüfe, ob seine / ihre Antworten richtig sind. Drehe anschließend das Heft um und lass dir dann von deinem Partner / deiner Partnerin die anderen elf Aufgaben vorlesen.

# B

<b>E</b>	12 geteilt durch 2 ist wie viel?	6
<b>F</b>	0 geteilt durch 2 ist wie viel?	0
<b>G</b>	2 geteilt durch 2 ist wie viel?	1
<b>H</b>	18 geteilt durch 2 ist wie viel?	9

2a

<b>A</b>	0 geteilt durch 2 ist wie viel?	0
<b>B</b>	8 geteilt durch 2 ist wie viel?	4
<b>C</b>	4 geteilt durch 2 ist wie viel?	2
<b>D</b>	6 geteilt durch 2 ist wie viel?	3

1b

<b>I</b>	14 geteilt durch 2 ist wie viel?	7
<b>J</b>	10 geteilt durch 2 ist wie viel?	5
<b>K</b>	6 geteilt durch 2 ist wie viel?	3

3a

<b>E</b>	16 geteilt durch 2 ist wie viel?	8
<b>F</b>	12 geteilt durch 2 ist wie viel?	6
<b>G</b>	18 geteilt durch 2 ist wie viel?	9
<b>H</b>	2 geteilt durch 2 ist wie viel?	1

2b

<b>M</b>	9 geteilt durch 2 ist wie viel?	4
<b>N</b>	10 geteilt durch 2 ist wie viel?	5
<b>O</b>	11 geteilt durch 2 ist wie viel?	5
<b>P</b>	12 geteilt durch 2 ist wie viel?	6
<b>Q</b>	13 geteilt durch 2 ist wie viel?	6
<b>R</b>	14 geteilt durch 2 ist wie viel?	7
<b>S</b>	15 geteilt durch 2 ist wie viel?	7
<b>T</b>	16 geteilt durch 2 ist wie viel?	8

3c

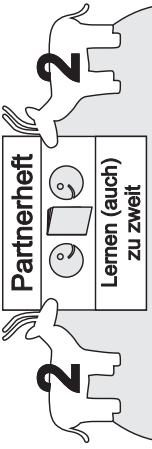
Ende

# A

Partnerein  
Lernen (auch)  
zu zweit

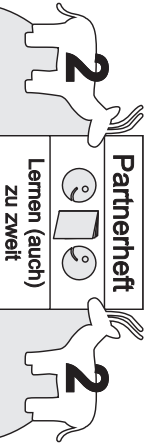
2  
2

2 Hefz  
Teilaufgabeben



<b>A</b>	Wie viel ist 4 geteilt durch 2?	2
<b>B</b>	Wie viel ist 12 geteilt durch 2?	6
<b>C</b>	Wie viel ist 8 geteilt durch 2?	4
<b>D</b>	Wie viel ist 18 geteilt durch 2?	9

1a



Teilaufgaben zum Einmaleins der 2 Hefz 2

Lies deinem Partner / deiner Partnerin die elf Aufgaben auf den folgenden drei Seiten vor und überprüfe, ob seine / ihre Antworten richtig sind. Drehe anschließend das Hefz um und lass dir dann von deinem Partner / deiner Partnerin die anderen elf Aufgaben vorlesen.

# B

<b>E</b>	Wie viel ist 2 geteilt durch 2?	1
<b>F</b>	Wie viel ist 16 geteilt durch 2?	8
<b>G</b>	Wie viel ist 0 geteilt durch 2?	0
<b>H</b>	Wie viel ist 10 geteilt durch 2?	5

2a

<b>A</b>	Wie viel ist 6 geteilt durch 2?	3
<b>B</b>	Wie viel ist 10 geteilt durch 2?	5
<b>C</b>	Wie viel ist 0 geteilt durch 2?	0
<b>D</b>	Wie viel ist 16 geteilt durch 2?	8

1b

<b>E</b>	Wie viel ist 4 geteilt durch 2?	2
<b>F</b>	Wie viel ist 20 geteilt durch 2?	10
<b>G</b>	Wie viel ist 8 geteilt durch 2?	4
<b>H</b>	Wie viel ist 12 geteilt durch 2?	6

2b

<b>I</b>	Wie viel ist 6 geteilt durch 2?	3
<b>J</b>	Wie viel ist 14 geteilt durch 2?	7
<b>K</b>	Wie viel ist 20 geteilt durch 2?	10

3a


Ende

<b>I</b>	Wie viel ist 2 geteilt durch 2?	1
<b>J</b>	Wie viel ist 4 geteilt durch 2?	2
<b>K</b>	Wie viel ist 8 geteilt durch 2?	4
<b>L</b>	Wie viel ist 12 geteilt durch 2?	6

q3

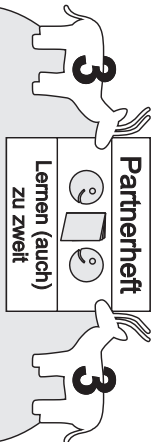
# A

3 Partnerheft  
 2 je eines  
 3 Heft  
 Einmal  
 ein  
 zehnteil



- A** 4 geteilt durch wie viel ist 2? 2
- B** 14 geteilt durch wie viel ist 2? 7
- C** 8 geteilt durch wie viel ist 2? 4
- D** 20 geteilt durch wie viel ist 2? 10

1a



Teilaufgaben zum Einmaleins der 2 Heft 3

Lies deinem Partner / deiner Partnerin die zehn Aufgaben auf den folgenden drei Seiten vor und überprüfe, ob seine / ihre Antworten richtig sind. Drehe anschließend das Heft um und lass dir dann von deinem Partner / deiner Partnerin die anderen zehn Aufgaben vorlesen.

# B

- E** 12 geteilt durch wie viel ist 2? 6
- F** 6 geteilt durch wie viel ist 2? 3
- G** 18 geteilt durch wie viel ist 2? 9
- H** 2 geteilt durch wie viel ist 2? 1

2a

- A** 10 geteilt durch wie viel ist 2? 5
- B** 8 geteilt durch wie viel ist 2? 4
- C** 4 geteilt durch wie viel ist 2? 2
- D** 6 geteilt durch wie viel ist 2? 3

1b

- E** 16 geteilt durch wie viel ist 2? 8
- F** 12 geteilt durch wie viel ist 2? 6
- G** 18 geteilt durch wie viel ist 2? 9
- H** 2 geteilt durch wie viel ist 2? 1

2b

- I** 10 geteilt durch wie viel ist 2? 5
- J** 16 geteilt durch wie viel ist 2? 8

Ende

3a

epur

2 durch wie viel ist 2? 1	2 durch wie viel ist 2? 1
10 durch wie viel ist 2? 5	16 durch wie viel ist 2? 8

3c