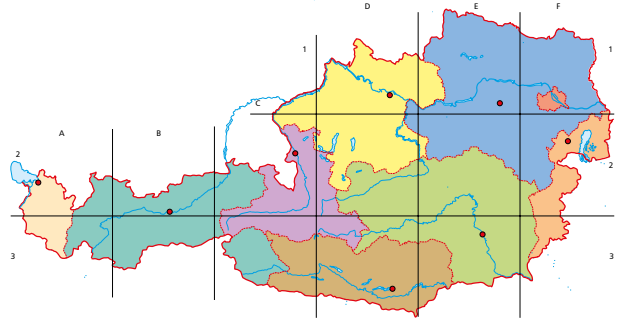
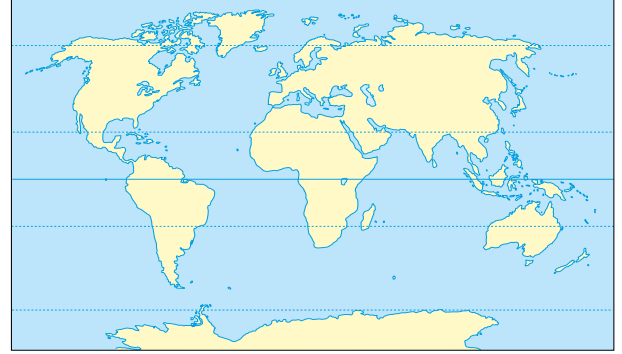


wichtige Wörter

- der Blick
- die Erde
- die Karte,
- die Welt →
- die Weltkarte
- der Kontinent,
- die Kontinente
- der Ozean,
- die Ozeane

1




EIN BLICK AUF

Kreuze an!

jetzt / nach Abschluss des Kapitels

	LERNZIELE	SEITE	EINSCHÄTZUNG
Österreich das Land das Bundesland die Hauptstadt	1.1 Österreich Ich kann die neun Bundesländer und ihre Hauptstädte nennen.	12 – 13	😊 😊 😞 😞
	Ich kann Flüsse und Seen in Österreich nennen.	12 – 13	😊 😊 😞 😞
	Ich kann die Bundesländer und ihre Hauptstädte auf der Karte zeigen.	14 – 17	😊 😊 😞 😞
das Nachbarland	1.2 Europa Ich kann einige Länder in Europa nennen.	18 – 19	😊 😊 😞 😞
	Ich kann die Nachbarländer Österreichs nennen.	18 – 19	😊 😊 😞 😞



wichtige Wörter

der Berg
 das Eis
 der Gletscher
 die Wüste

die Nadel,



der Wald →
 der Nadelwald

der Planet

die Sonne,
 das System →
 das Sonnensystem

das Wetter

das Klima,
 die Zone →
 die Klimazone,
 die Klimazonen

die Vegetation



die Vegetationszone

DIE ERDE



Sieh dir die Bilder an. Was kennst du schon?

Die Wörter am Rand helfen dir bei der Antwort.

LERNZIELE	SEITE	EINSCHÄTZUNG
1.3 Kontinente Ich kann die Kontinente nennen.	20 – 23	😊 😊 😞 😞
Ich kann die Kontinente und Ozeane auf der Weltkarte beschriften.	20 – 23	😊 😊 😞 😞
1.4 Die Erde Ich kann die Planeten in unserem Sonnensystem aufzählen.	26 – 27	😊 😊 😞 😞
1.5 Wetter und Klima Ich kann den Unterschied von Wetter und Klima erklären.	30 – 32	😊 😊 😞 😞
1.6 Klima und Klimazonen Ich kann einige Klimazonen nennen.	34 – 37	😊 😊 😞 😞
Ich kann verschiedene Klimazonen beschreiben.	34 – 37	😊 😊 😞 😞
1.7 Vegetationszonen Ich kann einige Vegetationszonen nennen.	38 – 40	😊 😊 😞 😞
Ich erkenne die Vegetationszonen auf Fotos.	38 – 40	😊 😊 😞 😞



1.1 ÖSTERREICH

wichtige Wörter

das Wappen

gold,
das Dach →
das goldene Dachl

alt, die Stadt →
die Altstadt

die Festung

mitten in

das Wahrzeichen

der Wurm



der Lindwurm

der Turm



die Uhr,
der Turm →
der Uhrturm


Die österreichischen Bundesländer




Info



Bregenz



Innsbruck,
Goldenes Dachl



Salzburg, Altstadt und
Festung Hohensalzburg

Österreich ist ein kleines Land mitten in Europa. Es hat neun Bundesländer.

Bundesland	Landeshauptstadt
Burgenland	Eisenstadt
Kärnten	Klagenfurt
Niederösterreich	St. Pölten
Oberösterreich	Linz
Salzburg	Salzburg
Steiermark	Graz
Tirol	Innsbruck
Vorarlberg	Bregenz
Wien	Wien



Klagenfurt, Lindwurm




Graz, Uhrturm



Eisenstadt



1. Schreibe unter jedes Foto das Bundesland.



wichtige Wörter

Info



das Rathaus,
der Platz →
der Rathausplatz



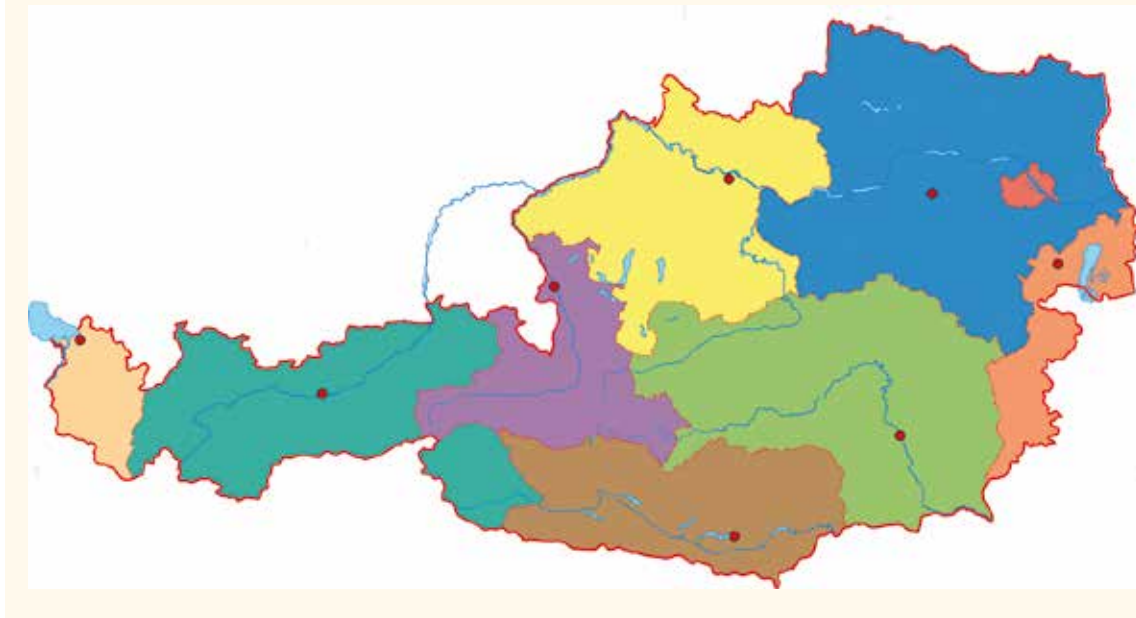
Linz



St. Pölten, Rathausplatz



Wien



beschriften



die Tabelle

2. Beschrifte die Bundesländer in der Karte.

Brauchst du Hilfe? Sieh dir die Karte in deinem Schulbuch auf Seite 120 an.

3. Beschrifte die Hauptstädte

Die Tabelle auf Seite 12 hilft dir dabei.

4. Arbeitet zu zwei. Benennt die Flüsse und die Seen in der Karte.

Braucht ihr Hilfe? Seht euch die Karte auf Seite 120 an.



Österreich ist ein kleines Land in Europa.

Die Hauptstadt ist Wien. Österreich hat neun Bundesländer.

Jedes Bundesland hat eine Landeshauptstadt.

MERKE

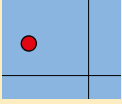




1.1 ÖSTERREICH

wichtige Wörter

suchen,
das Feld →
das Suchfeld



der Ort

der Rand
... am Rand ...

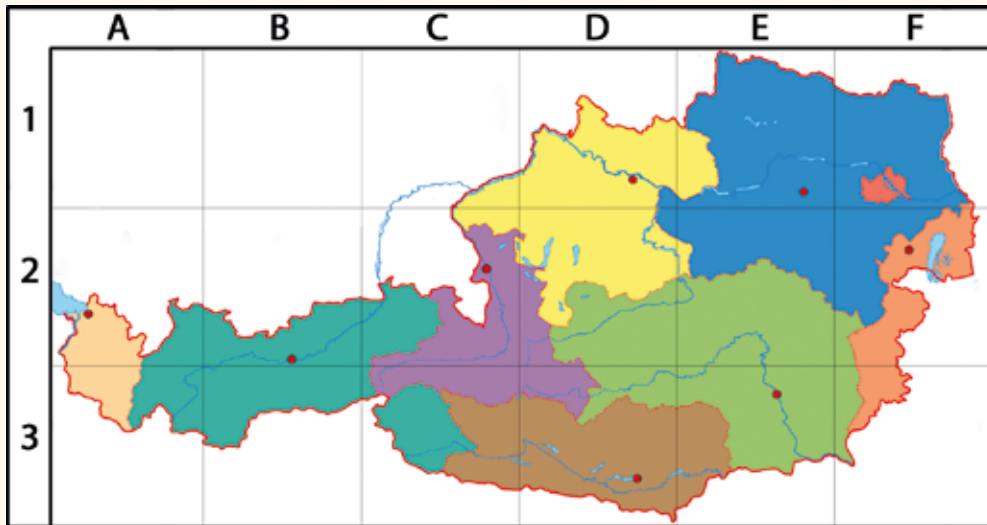


... liegen **in dem**
Feld ...

... liegen in den
Feldern ...



Info



Diese Karte hat Suchfelder. Mit diesen Feldern kannst du gut beschreiben, wo ein Ort auf der Karte ist. Am Rand siehst du Buchstaben und Zahlen. Wenn du einen Ort, einen Fluss oder einen Berg findest, sagst du dazu den Buchstaben, den du ober dem Feld siehst, und die Zahl, die du links oder rechts siehst, zum Beispiel A1, A2, A3, B1, B2 ...

Findest du Wien? Wien liegt in dem Suchfeld F1.



5. Sieh dir die Karte genau an und beantworte die Fragen.

Brauchst du Hilfe? Dann sieh dir noch einmal an, wie du die Karte auf Seite 12 und 13 beschriftet hast.

a) In welchen Feldern liegt das Burgenland?

Das Burgenland liegt in den Feldern _____ und _____.

b) In welchem Feld liegt der Bodensee?

Der Bodensee liegt im Feld _____.

c) Welche Flüsse liegen im Feld E3?

Im Feld E3 liegen _____.

d) Nenne alle Bundesländer, die im Feld D2 liegen.

Im Feld D2 liegen _____.

e) Nenne alle Felder, in denen Tirol liegt.

Tirol liegt in den Feldern _____.

f) Nenne alle Felder, durch die die Donau fließt.

Die Donau fließt durch die Felder _____.



Übt zu zweit weiter. Fragt und antwortet wie oben.



6. Ergänze die Tabelle.

Trage zu jedem Bundesland die Hauptstadt ein. Trage auch das Suchfeld ein, in dem die Hauptstadt liegt.

Schreibe Seen und Flüsse dazu, die du auf der Karte findest.

Bundesland	Landeshauptstadt	Suchfeld	Flüsse, Seen
Burgenland	Eisenstadt	F2	Neusiedler See
Kärnten			
Niederösterreich			
Oberösterreich			
Salzburg			
Steiermark			
Tirol			
Vorarlberg			
Wien			

7. Beschreibe, durch welche Bundesländer du fährst.

Durch welche Bundesländer fährst du, wenn du von Linz nach Klagenfurt fahren willst?

Ich fahre durch Oberösterreich, Salzburg und Kärnten oder durch Oberösterreich, die Steiermark und Kärnten.

a) Du fährst von Wien nach Klagenfurt.

Ich fahre durch _____
_____.

b) Du fährst von Bregenz nach Graz.

Ich _____
_____.

c) Du fährst von Eisenstadt nach Linz.

_____.

d) Du fährst von Innsbruck nach Wien.

_____.

e) Du fährst von Sankt Pölten nach Klagenfurt.

_____.



wichtige Wörter

ergänzen

eintragen – ich
trage ein, du trägst
ein



Wir fahren **durch**
Österreich, Wien,
Niederösterreich,
Oberösterreich,
Kärnten, Salzburg,
Tirol und Vorarlberg.

ABER:
Wir fahren **durch**
die Steiermark und
das Burgenland.

Wohin fahren wir?

Wir fahren **nach**
Österreich, Wien,
Niederösterreich,
Oberösterreich,
Kärnten, Salzburg,
Tirol und Vorarlberg.

ABER:
Wir fahren **in die**
Steiermark und **in**
das Burgenland.



1.1 ÖSTERREICH

wichtige Wörter

der Himmel,
die Richtung →
die
Himmelsrichtung

der Norden
der Osten
der Süden
der Westen

der Kompass
die Nadel →
die Kompassnadel

Die Himmelsrichtungen



Info

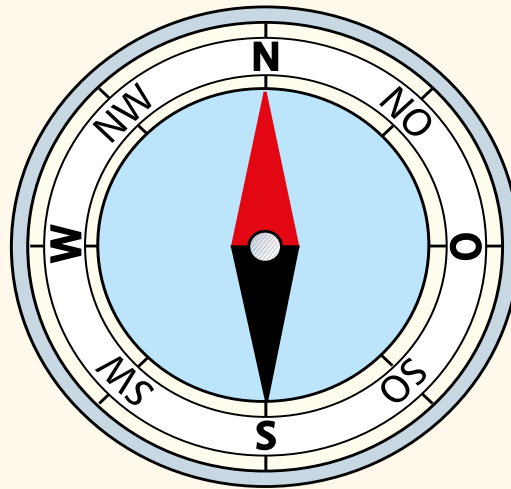
Im Geographieunterricht sagst du oft, wo etwas liegt. Dabei helfen dir die Himmelsrichtungen.

Die **Haupthimmelsrichtungen** heißen Norden, Osten, Süden, Westen.

Die **Nebenhimmelsrichtungen** sind Nordosten, Südosten, Südwesten und Nordwesten.

Die Kompassnadel zeigt nach Norden.

Sie dir den Kompass an:



8. Setze die richtige Himmelsrichtung ein.

a) Wohin zeigt der rote Zeiger?

Er zeigt nach _____.

b) Wohin zeigt der schwarze Zeiger?

Er zeigt nach _____.

c) Wie heißt die Himmelsrichtung zwischen Süden und Westen?

Sie heißt _____.

d) Wie heißt die Himmelsrichtung zwischen Norden und Osten?

Sie heißt _____.

Übt zu zweit die Himmelsrichtungen.

Fragt und antwortet wie oben.

der Zeiger

... zeigen **nach** ...



wichtige Wörter

im Norden
im Osten
im Süden
im Westen



nördlich –
nördlicher –
am nördlichsten

östlich –
östlicher –
am östlichsten

südlich –
südlicher –
am südlichsten

westlich –
westlicher –
am westlichsten

südlicher **als**
... liegt südlich von ...



9. In welcher Himmelsrichtung liegen die österreichischen Landeshauptstädte?

Setze ein.

Brauchst du Hilfe? Sieh dir den Kompass auf Seite 16 und die Karte in deinem Heft „Wortschatz und Karten“ auf Seite 59 an.

Bregenz liegt im Westen.

a) Nenne noch eine Landeshauptstadt, die im Westen liegt.

_____ liegt im Westen.

b) Nenne eine Landeshauptstadt, die im Osten liegt.

_____ liegt im Osten.

c) Nenne zwei Landeshauptstädte, die im Süden liegen.

_____ liegen im Süden.

d) Nenne eine Landeshauptstadt, die im Norden liegt.

_____ liegt im Norden.

10. Vergleiche die Lage.

Innsbruck liegt östlich von Bregenz.

Bregenz liegt westlich von Innsbruck.

Wien liegt nördlicher als Eisenstadt.

a) Welche Stadt liegt östlich von Sankt Pölten?

_____ liegt östlich von Sankt Pölten.

b) Welche Stadt liegt nördlich von Eisenstadt?

_____ liegt nördlich von Eisenstadt.

c) Liegt Innsbruck oder Bregenz westlicher?

_____ liegt westlicher als _____.

d) Liegt Linz oder Salzburg nördlicher?

_____ liegt nördlicher als _____.

e) Welche Landeshauptstadt liegt am südlichsten?

_____ am südlichsten.

11. Übt zu zweit weiter. Fragt und antwortet wie oben.

Schreibt drei Fragen und Antworten in euer Heft.



1.2 EUROPA

wichtige Wörter

Die Länder



Info

In Europa gibt es 48 Länder.



1. Seht euch die Karte an

Überlegt gemeinsam, welche Länder ihr schon kennt. Zeigt die Länder auf der Karte und benennt sie.

Vergleicht mit der Europakarte in eurem Schulbuch auf Seite 122.



2. Beschrifte die folgenden europäischen Länder in der Karte oben mit ihren Autokennzeichen. Die Autokennzeichen stehen in Klammer:

Deutschland (D), Italien (I), Frankreich (F), Vereinigtes Königreich (GB), Österreich (A), Norwegen (N), Schweden (S), Finnland (SF), Spanien (E), Polen (PL), Kroatien (HR), Serbien (SRB), Bosnien und Herzegowina (BiH), Griechenland (GR), Ukraine (UA), Russland (RUS)



3. Benennt die Nachbarländer von Österreich und zeigt sie in der Karte. Arbeitet zu zweit. Schreibt die Nachbarländer und ihre Hauptstädte in eure Hefte. Die Hauptstädte sind auf der Karte mit roten Punkten eingezeichnet. Ihre Namen findet ihr in einem Atlas oder im Internet.



4. Länder und Städte – Markiere die Wortgrenzen.

a)

IRLAND|FRANKREICHUNGARNRUSSLANDITALIENSPANIENPORTUGALBULGARIENNORWEGEN

b)

LONDON|PARISROMMADRIGBERLINWIENBUDAPESTPRAGBELGRADATHENKOPGENHAGEN

Europa

Europa,
die Karte →
die Europakarte

folgen → folgend

die folgenden
Länder

das
Autokennzeichen
(A)

die Klammer ()
in Klammer stehen
(Klammer), (A), ...

der Atlas

markieren

das Wort,
die Grenze →
die Wortgrenze



5. Sieh dir die Fotos an und ordne sie den Ländern zu.

Du findest die Länder auf einer Europakarte in einem Atlas.

Schreibe das Land dazu.



In Brüssel sind die meisten Gebäude der Europäischen Union (EU).



Berlin ist die größte Stadt eines Nachbarlandes von Österreich.



Der Eiffelturm ist das Wahrzeichen von Paris.



Stockholm ist eine nordeuropäische Hauptstadt.



Der Turm von Belem steht in Lissabon



Prag ist eine besonders schöne Stadt.



Athen gehört zu den ältesten Städten in Europa.



Istanbul liegt auf zwei Kontinenten: Europa und Asien.

wichtige Wörter

ansehen –
ich sehe etwas an,
du siehst etwas an

das Gebäude

europäisch,
die Union →
die Europäische
Union

gehören zu

alt – älter –
am ältesten

wichtige Wörter

dicht besiedelt



dünn besiedelt



Norden, Amerika
→ Nordamerika

der Büffel,
die Herde →
die Büffelherde

national,
der Park →
der Nationalpark

die Landwirtschaft



die Alpen
das Alpenvorland

Süden, Amerika →
Südamerika

der Amazonas

tief, das Land →
das Tiefland



die Millionen,
die Stadt →
die Millionenstadt

Afrika

die Sahara

bewohnt

das Gebiet

man sieht

Kontinente – dicht und dünn besiedelt

Info

Auf allen Kontinenten gibt es dicht besiedelte Teile und dünn besiedelte Teile.



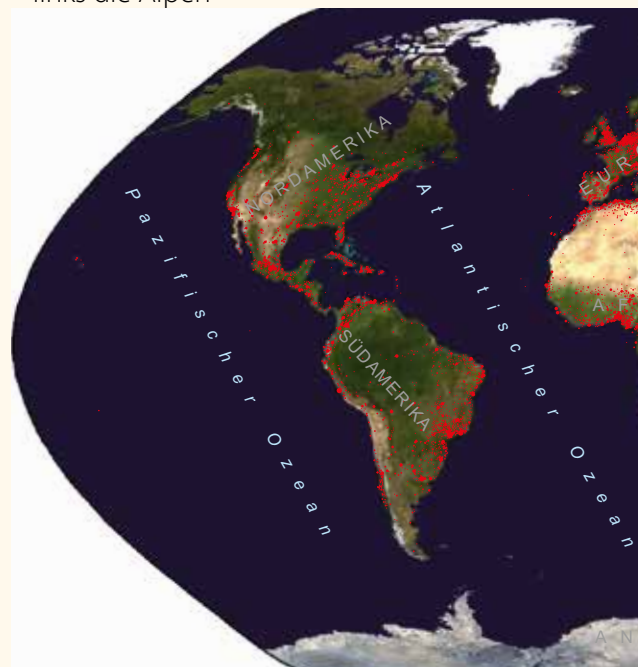
1. Nordamerika – Büffelherde im Yellowstone-Nationalpark, USA



2. Europa – Landwirtschaft im Alpenvorland, links die Alpen



3. Nordamerika – Millionenstadt Chicago, USA



4. Südamerika – Rio Negro im Amazonas Tiefland, Brasilien



5. Südamerika – Bogotá, Kolumbien



6. Afrika – Sahara

Von jedem Kontinent gibt es zwei Bilder. Auf einem Foto siehst du dicht bewohntes Gebiet, auf dem anderen Foto siehst du wenig bewohntes Gebiet.

1. Ordne die Bilder richtig zu.

Dicht bewohntes Gebiet sieht man auf den Fotos _____ .

Wenig bewohntes Gebiet sieht man auf den Fotos _____ .



wichtige Wörter

Info



7. Europa – Paris, Champs-Élysées und Triumphbogen



8. Asien – Li-Fluss, China



9. Asien – Tokio, Hauptstadt von Japan



10. Termitenburgen in Nordaustralien



11. Afrika – dichter Verkehr in Kairo, Ägypten



12. Adelaide, Australien

der Triumph,



der Bogen →
der Triumphbogen



Asien

die Termiten,



die Burg →



die Termitenburg

Australien

2. Sieh dir die Kontinente und Ozeane genau an.
Merke dir, wo sie liegen.





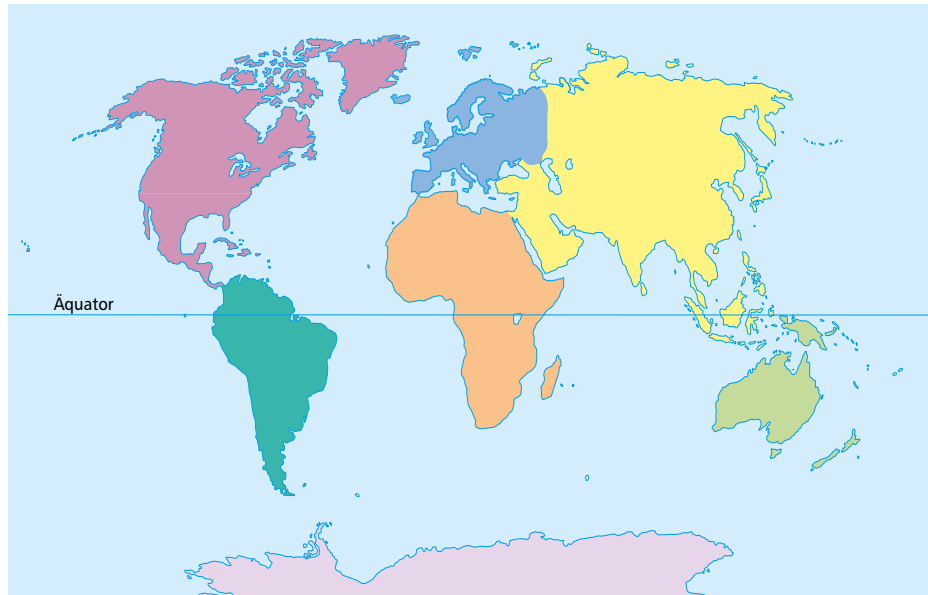
1.3 KONTINENTE



3. Beschrifte die Kontinente und Ozeane.


Brauchst du Hilfe? Sieh dir noch einmal die Weltkarte auf Seite 20 und 21 an.


wichtige Wörter

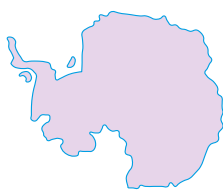


4. Ergänze die Tabellen. Suche die Länder und Städte in deinem Atlas. Trage die Länder in die Tabelle ein und ordne ihnen die Städte zu.

Sprecht anschließend zu zweit über die Tabelle. Sprecht so: Brasilien liegt in Südamerika. Die Hauptstadt von Brasilien ist Brasilia.

Kontinent Europa 	Ordne zu: Deutschland, Moskau, Frankreich, Berlin, Paris, Russland	
	Land	Stadt
	Deutschland	
		Paris


Kontinent Asien 	Ordne zu: Indien, Peking, Tokio, China, Japan, Bombay	
	Land	Stadt
		Bombay

Kontinent Antarktika 	In Antarktika gibt es keine Städte.	
	Antarktika ist eigentlich unbewohnbar. Es arbeiten dort nur Forscherinnen und Forscher. Sie leben während ihrer Arbeit auch in Antarktika.	


bewohnbar ↔ unbewohnbar
 eigentlich
 der Forscher, die Forscherin
 während der Arbeit
 während ihrer Arbeit


1.3 KONTINENTE



Kontinent Australien 	Ordne zu: Sydney, Neuseeland, Australien, Wellington City	
	Land	Stadt
		Sydney

Kontinent Afrika 	Ordne zu: Kairo, Nigeria, Ägypten, Abuja	
	Land	Stadt

Kontinent Nord- und Mittelamerika 	Ordne zu: New York, Ottawa, Kanada, Mexiko, Vereinigte Staaten, Mexiko-Stadt	
	Land	Stadt

Kontinent Südamerika 	Ordne zu: Brasilien, Argentinien, Buenos Aires, Brasilia	
	Land	Stadt

wichtige Wörter

die Fläche

der Einwohner

die Einwohnerin

die Million

1 Million

1 000 000

die Milliarde

1 Milliarde

1 000 000 000

Kontinent	Fläche	Einwohnerinnen und Einwohner	
			aktuell:
Europa	10 Millionen km ²	743 Millionen	
Asien	44 Millionen km ²	4,4 Milliarden	
Australien	9 Millionen km ²	25 Millionen	
Afrika	30 Millionen km ²	1,2 Milliarden	
Nord- und Mittelamerika	24 Millionen km ²	529 Millionen	
Südamerika	18 Millionen km ²	423 Millionen	

Info



km² – der
Quadratkilometer

sprich so:
eine Fläche von 10
Quadratkilometern

Europa hat eine Fläche von 10 Millionen km² und rund 743 Millionen Einwohnerinnen und Einwohnern.

5. Kontrolliere die Einwohnerzahlen im Internet. Schreibe die aktuellen Zahlen in die Tabelle.

Be active!

