

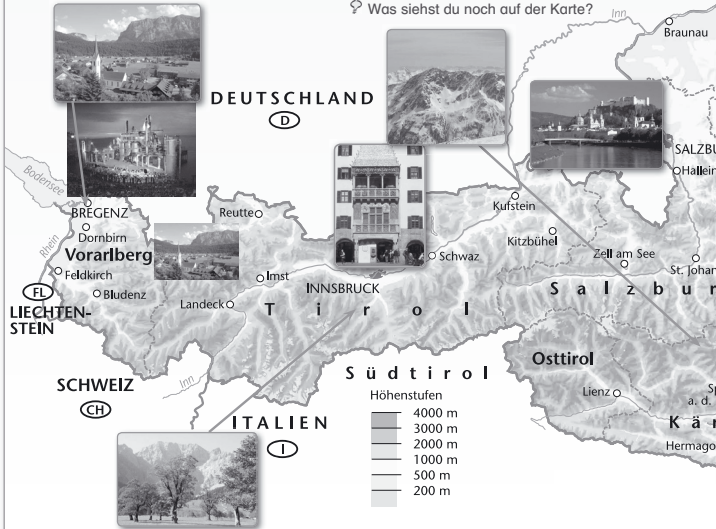
Österreich – Ein Überblick

3. Österreich

Österreich	Burgenland	Kärnten	Nieder- österreich	Ober- österreich	Salzburg	Steiermark	Tirol	Vorarlberg	Wien
8 404 152 83 871 km² Geisgölkner (3 789 m)	284 897 3 965 km² Gaspöcherstein (884 m)	558 271 9 536 km² Geisgölkner (3 789 m)	1 611 981 19 179 km² Schneeberg (2 076 m)	1 412 620 11 982 km² Dachstein (2 995 m)	531 721 7 154 km² Grödenkogel (3 666 m)	1 210 614 19 392 km² Dachstein (2 995 m)	710 098 12 648 km² Geisgölkner (3 789 m)	369 938 2 601 km² Fitz-Baum (3 312 m)	1 714 142 415 km² Hemmerkogel (542 m)

Österreich besteht aus **neun Bundesländern**. Jedes hat eine **Hauptstadt**. **Wien** ist zugleich Bundesland, Landeshauptstadt und Hauptstadt Österreichs.

- In welchem Bundesland lebst du?
- In welchen Bundesländern warst du schon?
- Finde heraus: größte Stadt, größtes Bundesland, kleinstes Bundesland, wichtige Flüsse!
- Was siehst du noch auf der Karte?



Was fällt dir zu deinem/einem Bundesland ein? (Sehenswürdigkeiten, Besonderheiten...)

24 AB 6a, 6b

Mit Österreich und seinen Bundesländern vertraut werden

Seite: 24-25

Klasse 4

Lernziele:

Bundesländer aufzählen.

Einige Besonderheiten der einzelnen Bundesländer beschreiben (Größe, Landeshauptstadt, Sehenswürdigkeiten, berühmte Personen, Flüsse, ev. Sagen, ...)

Regionale Besonderheiten des eigenen Bundeslandes wiedergeben.

Raum für Notizen

Raum für Notizen

Österreich – Ein Überblick

3. Österreich



Maßstab: 1 cm entspricht 15 km
0 25 50 km

Mit Österreich und seinen Bundesländern vertraut werden

Aktion Gestaltet Frage- und Antwortkärtchen zu Österreich! Wer weiß die meisten Antworten?

25

Lernziele:

Einige Merkmale der Bundeshauptstadt aufzählen und erklären.

Wien auf dem Österreichplan lokalisieren.

Raum für Notizen

Zu Besuch in der Bundeshauptstadt Wien



Mit eindreiviertel Millionen Einwohnern ist Wien die **größte Stadt in Österreich**. Wien zählt auch zu den größeren Städten in Europa. Wien ist Sitz der **österreichischen Bundesregierung**. Von hier aus wird Österreich verwaltet. Wien ist der bedeutendste **Wirtschaftsstandort** Österreichs. Hier gibt es viele Fabriken und Firmen. Wien hat viele **Sehenswürdigkeiten**. Sie locken jedes Jahr Millionen Gäste aus der ganzen Welt in die Stadt.

- 🔍 Wo findest du Wien auf der Österreich-Karte? (→ Seite 24-25)
- 🔍 Vergleiche mit der Karte auf Seite 27! Was erkennst du auf dem Foto?

Zu Besuch in der Bundeshauptstadt Wien



- 🔍 Suche im Plan folgende Sehenswürdigkeiten und ringle sie bunt ein! Stephansdom, Staatsoper, Hofburg, Parlament oder andere Sehenswürdigkeiten, die du im Plan entdeckst. (→ <http://www.wien-konkret.at/sehenswuerdigkeiten>)
- 🔍 Welche Sehenswürdigkeiten gibt es noch? Zähle einige davon auf!

Lernziele:

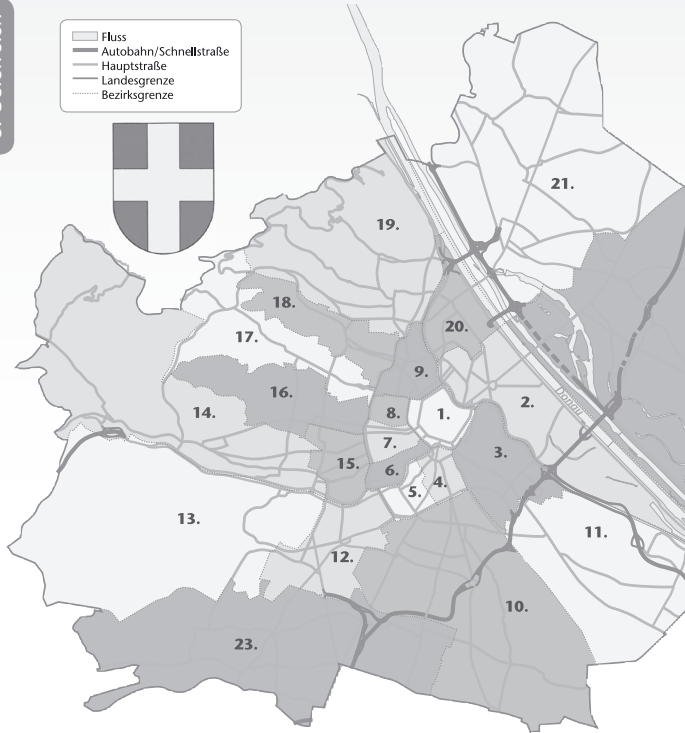
Die Sehenswürdigkeiten der Ringstraße aufzählen.

Die Bedeutung einiger Sehenswürdigkeiten erklären (Rathaus, Parlament, Staatsoper, ...).

Weitere Sehenswürdigkeiten aufzählen (Schönbrunn, Karlskirche, Hermesvilla, Laxenburg, ...)

Raum für Notizen

- Fluss
- Autobahn/Schnellstraße
- Hauptstraße
- Landesgrenze
- Bezirksgrenze



- | | | | |
|-----------------|---------------|--------------------------|-----------------|
| 1. Innere Stadt | 7. Neubau | 13. Hietzing | 19. Döbling |
| 2. Leopoldstadt | 8. Josefstadt | 14. Penzing | 20. Brigittenau |
| 3. Landstraße | 9. Alsergrund | 15. Rudolfsheim-Fünfhaus | 21. Floridsdorf |
| 4. Wieden | 10. Favoriten | 16. Ottakring | 22. Donaustadt |
| 5. Margareten | 11. Simmering | 17. Hernals | 23. Liesing |
| 6. Mariahilf | 12. Meidling | 18. Währing | |

28 AB 7a, 7b

Die Wiener Bezirke und ihre Namen auf dem Stadtplan finden

Lernziel:

Wiens politische Bezirke aufzählen.
 Für Wiener Schulen:
 Besonderheiten des Heimatbezirkes beschreiben.

Raum für Notizen

Raum für Notizen

Aktion



Wien-Rallye!

Wieviele Bezirke hat Wien?
 Welche Bezirke sind besonders klein?
 Welcher Bezirk hat die größte Fläche?

Nenne einige Bezirke, die an der Donau liegen!



Formuliere eigene Fragen und Antworten! Stelle sie deiner Nachbarin/deinem Nachbar!

Die Wiener Bezirke und ihre Namen auf dem Stadtplan finden

29

Lernziele:

Merkmale einer Stadt aufzählen.

Einige soziale Einrichtungen einer Stadt nennen.


Raum für Notizen



Leben in der Stadt

3. Österreich

In Österreich gibt es viele Städte. Die größten sind Wien, Linz und Graz. Hier gibt es viele öffentliche Gebäude wie z.B. Museen und Theater.



Wo findest du diese Einzelheiten? Kreuze an!

30

Mit Merkmalen einer Stadt vertraut werden

Leben in der Stadt

Was gibt es hier für Kinder?
Und für Erwachsene?

Woran erkennst du, dass es sich um eine Stadt handelt?
Nenne Merkmale!



Mit Merkmalen einer Stadt vertraut werden

AB 8 31

3. Österreich

Raum für Notizen



32

Merkmale des Lebens auf dem Land erkennen

Lernziele:

Soziale Einrichtungen in einer Dorfgemeinschaft beschreiben.

Vergleich Stadt - Dorfgemeinschaft anstellen.

Raum für Notizen

Raum für Notizen



Merkmale des Lebens auf dem Land erkennen

☞ Woran erkennst du, dass dieses Bild das Leben auf dem Land zeigt? Nenne Einzelheiten!

☞ Was sind die Vor- oder Nachteile des Lebens auf dem Land?

Vorteile: _____

Nachteile: _____

☞ Wo würdest du lieber leben - Stadt oder Land? Warum?

33

Lernziele:

- Handwerksberufe aus früherer Zeit aufzählen.
- Die Begriffe Lehrjahre, Geselle, Meister erklären.
- Arbeitsbedingungen in früherer Zeit beschreiben.

Raum für Notizen

Berufe damals

3. Österreich

Bis vor rund 200 Jahren arbeiteten viele Menschen als **Handwerkerinnen/Handwerker** zu Hause. Sie stellten Dinge her und verkauften sie auf dem Markt. Jede Berufsgruppe hatte ihre eigenen **Erkennungszeichen** (Berufswappen).




- ☞ Zu welchen Bildern passen diese Beschreibungen? Ordne die Zahlen 1-7 richtig!
- ☞ 1 – spinnen, 2 – Besen herstellen, 3 – schnitzen, 4 – Kerzen erzeugen, 5 – weben, 6 – töpfeln, 7 – schmieden


Berufswappen

- ☞ Berufswappen: Zu welchen Berufen passen diese Zeichen? Setze richtig ein!
- 1 – Kaufmann/Marktfrau, 2 – Schuhmacherin/Schuhmacher, 3 – Schmied, 4 – Maurer, 5 – Fassbinder, 6 – Fleischhauerin/Fleischhauer

☞ Zeichne ein Wappen für einen Beruf von heute!



Berufe heute



Landwirt, Töpferin, Architektin, Polizist, KFZ-Mechaniker, Bäcker, Ärztin, Feuerwehrmann

- ☞ Welche Berufe üben diese Menschen aus? Verbinde die Bezeichnungen mit den passenden Bildern! Schreibe die Berufsbezeichnungen in die Kästchen!
- ☞ Welche dieser Berufe gibt es in deinem Schulort? Kreuze an!

☞ Wähle einen Beruf aus und stelle ihn vor!

Beruf: _____
 Erforderliche Ausbildung/Kenntnisse: _____
 Arbeitszeiten: _____
 Besonderheiten: _____

☞ Was möchtest du einmal werden?
 Was musst du dafür können?

Beruf: _____
 Kenntnisse: _____

3. Österreich

Aktion

Lernziele:

- Ausbildungsmöglichkeiten erklären.
- Einige Berufsfelder in der unmittelbaren Lebensumgebung beschreiben.

Raum für Notizen