

Mehr – weniger – gleich viele

①

Male an

rot

gelb

Aufgabe 1

Ist für jedes Kind ein Ball da?

- a) Lege auf jeden Ball ein Plättchen. Schiebe zu jedem Kind einen Ball/ein Plättchen.
- b) Mach von jedem Kind zu einem Ball einen Strich.
- c) Es sind mehr Bälle als Kinder.
Es sind weniger Kinder als Bälle.

Aufgabe 2 bis 5

Male an: rot wie die Rose, gelb wie die Sonne.

- Sind es mehr rote Bälle oder mehr gelbe?
- Mach von jedem roten Ball zum gelben Ball einen Strich.
- Zu jedem Bild sprechen:
- 2, 4 Es sind mehr rote Bälle.
Es sind weniger gelbe Bälle.
 - 3 Es sind gleich viele/genauso viele rote und gelbe Bälle.
 - 5 mehr gelbe Bälle

<p>② </p> <div style="display: flex; justify-content: space-around; align-items: center; margin-top: 20px;"> <div style="text-align: center;"> </div> <div style="text-align: center;"> </div> </div> <div style="display: flex; justify-content: space-around; margin-top: 20px;"> <div style="text-align: center;"> </div> <div style="text-align: center;"> </div> <div style="text-align: center;"> </div> <div style="text-align: center;"> </div> <div style="text-align: center;"> </div> </div>	<p>③ </p> <div style="display: flex; justify-content: space-around; align-items: center; margin-top: 20px;"> <div style="text-align: center;"> </div> <div style="text-align: center;"> </div> <div style="text-align: center;"> </div> <div style="text-align: center;"> </div> </div> <div style="display: flex; justify-content: space-around; margin-top: 20px;"> <div style="text-align: center;"> </div> <div style="text-align: center;"> </div> <div style="text-align: center;"> </div> <div style="text-align: center;"> </div> </div> <div style="display: flex; justify-content: space-around; margin-top: 20px;"> <div style="text-align: center;"> </div> <div style="text-align: center;"> </div> <div style="text-align: center;"> </div> <div style="text-align: center;"> </div> </div>
<p>④ </p> <div style="display: flex; justify-content: space-around; align-items: center; margin-top: 20px;"> <div style="text-align: center;"> </div> <div style="text-align: center;"> </div> </div> <div style="display: flex; justify-content: space-around; margin-top: 20px;"> <div style="text-align: center;"> </div> <div style="text-align: center;"> </div> </div> <div style="display: flex; justify-content: space-around; margin-top: 20px;"> <div style="text-align: center;"> </div> <div style="text-align: center;"> </div> <div style="text-align: center;"> </div> </div> <div style="display: flex; justify-content: space-around; margin-top: 20px;"> <div style="text-align: center;"> </div> <div style="text-align: center;"> </div> <div style="text-align: center;"> </div> <div style="text-align: center;"> </div> </div>	<p>⑤ </p> <div style="display: flex; justify-content: space-around; align-items: center; margin-top: 20px;"> <div style="text-align: center;"> </div> <div style="text-align: center;"> </div> <div style="text-align: center;"> </div> <div style="text-align: center;"> </div> </div> <div style="display: flex; justify-content: space-around; margin-top: 20px;"> <div style="text-align: center;"> </div> <div style="text-align: center;"> </div> <div style="text-align: center;"> </div> <div style="text-align: center;"> </div> </div> <div style="display: flex; justify-content: space-around; margin-top: 20px;"> <div style="text-align: center;"> </div> <div style="text-align: center;"> </div> <div style="text-align: center;"> </div> <div style="text-align: center;"> </div> </div> <div style="display: flex; justify-content: space-around; margin-top: 20px;"> <div style="text-align: center;"> </div> <div style="text-align: center;"> </div> <div style="text-align: center;"> </div> <div style="text-align: center;"> </div> </div>

Name: _____

Datum: _____

Knicke zuerst diesen Streifen um.

Zeitliche Reihenfolge

Male zu jedem Bild den passenden Würfel.






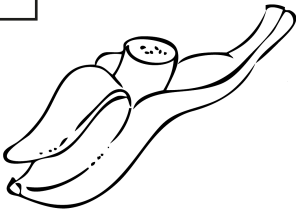

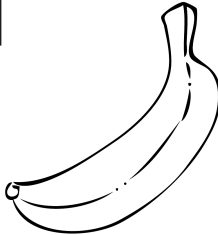









zuerst





dann



nachher

<input type="checkbox"/> 	<input type="checkbox"/> 	<input type="checkbox"/> 
<input type="checkbox"/> 	<input type="checkbox"/> 	<input type="checkbox"/> 
<input type="checkbox"/> 	<input type="checkbox"/> 	<input type="checkbox"/> 
<input type="checkbox"/> 	<input type="checkbox"/> 	<input type="checkbox"/> 
<input type="checkbox"/> 	<input type="checkbox"/> 	<input type="checkbox"/> 



★
Male auf die Rückseite drei Bilder:
Zuerst – dann – nachher







Name: _____

Datum: _____

Knicke zuerst diesen Streifen um.

Größer – kleiner

kleinstes Tier — größtes Tier X



	—		X	
....

X				—
.....

—		X		
.

			—	X
....

	—		X	
...

	X	—		
....



Ordne nach der Größe und male Punkte •.






Name: _____

Datum: _____



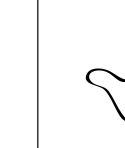
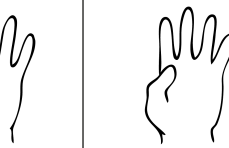

Knicke zuerst diesen Streifen um.

Gleich viele – mehr – weniger





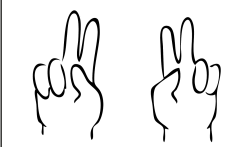
① gleich viele ●

				
●				

② ● ○ ○ mehr

				
● ○ ○				

③ ● ● ● ● ✂ weniger

				
● ● ● ●				



Aufgabe 1
Wie viele Finger sind gestreckt?
Zeichne ebenso viele Punkte darunter.

Aufgabe 2
Wie viele Finger sind gestreckt?
Zeichne zwei Punkte mehr darunter.

Aufgabe 3
Wie viele Finger sind gestreckt?
Zeichne einen Punkt weniger darunter.



Male die Hand oben sorgfältig aus. Male noch mehr große Hände auf die Rückseite und ziehe ihnen bunte Handschuhe an.