

Zählen



Welche Mengen sind hier dargestellt? Ergänze alle Zeilen.







	● ● ● ○ ○	III	
	○ ○ ○ ○ ○		
	○ ○ ○ ○ ○		
	○ ○ ○ ○ ○	IIII	
	○ ○ ○ ○ ○		
		IIII IIII	
	○ ○ ○ ○ ○ ○ ○ ○ ○ ○		
	○ ○ ○ ○ ○ ○ ○ ○ ○ ○		
	○ ○ ○ ○ ○ ○ ○ ○ ○ ○		
	○ ○ ○ ○ ○ ○ ○ ○ ○ ○		

Silben-Steine



Setze die Silben zusammen.

Schreibe das Wort neben das passende Bild.

<p>Vul kan</p>	
<p>Wol ke</p>	
<p>Ze bra</p>	
<p>To te ma</p>	
<p>Se schiff gel</p>	
<p>Vo fig gel kä</p>	
<p>Lo ko mo ti ve</p>	